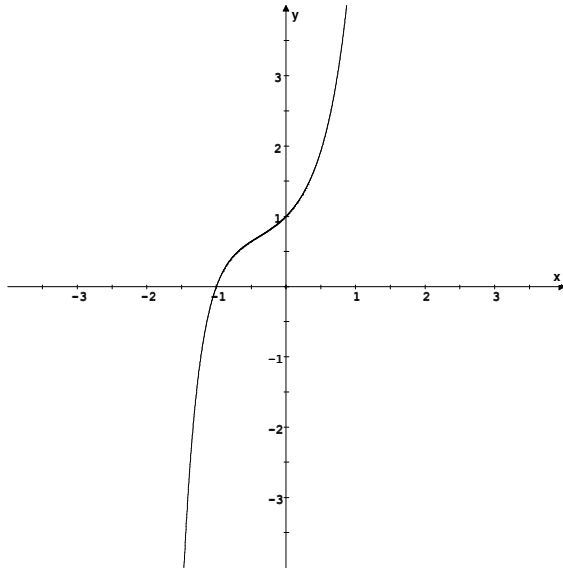


Lösung Übungsblatt 3 für die Klasse 13B

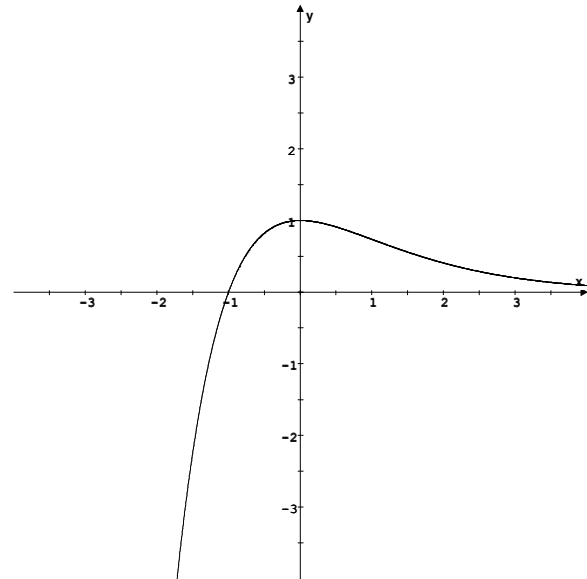
Martin Wellmann 08.01.2009

Aufgabe 4 des Pflichtteils Ordne den vier Schaubildern jeweils einen der Funktionsterme a) bis h) zu!

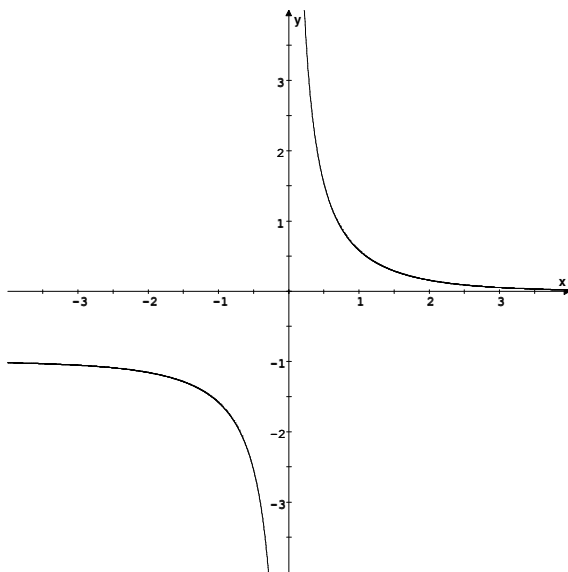
a) $f(x) = (x + 1)e^{x^2}$



c) $f(x) = (x + 1)e^{-x}$



d) $f(x) = \frac{1}{e^x - 1}$



h) $f(x) = e^{1-x^2}$

